

Текст подготовила: Жмыхова Жанна Александровна

Практико-ориентированные задания по краеведению

Жмыховой Жанны Александровны, учителя истории и обществознания

МБОУ «Зоринская ООШ Курского района»

Задание 1.

Используя карту, города Курска, составьте маршрут экскурсии для гостей.



Составьте перечень объектов, о которых вы бы хотели рассказать гостям нашего города на экскурсии, заполните таблицу. Обозначьте номера этих объектов на карте.

№	Наименование объекта	Описание, адрес местонахождения

Задание 2.

Многие улицы нашего города носят названия героев.

Обозначьте на карте города порядковые номера улиц согласно таблице:

1	Блинов Константин Минаевич
2	Боровых Андрей Егорович
3	Бочаров Владимир Михайлович
4	Ватутин Николай Фёдорович
5	Гагарин Юрий Алексеевич
6	Диасамидзе Михаил Степанович
7	Ерёмин Александр Климентьевич
8	Зеленко Екатерина Ивановна
9	Комаров Владимир Михайлович
10	Конорев Иван Алексеевич
11	Крюков Василий Иванович
12	Ломакин Алексей Максимович
13	Малых Евгений Васильевич
14	Мыльников Григорий Михайлович
15	Ольшанский Константин Фёдорович
16	Перекальский Степан Николаевич
17	Пигорев Николай Григорьевич
18	Плысюк Николай Ефимович
19	Рокоссовский Константин Константинович
20	Серёгин Владимир Сергеевич
21	Скорятин Фёдор Николаевич
22	Сонин Иван Егорович
23	Сыромятников Сергей Васильевич
24	Фомин Михаил Сергеевич
25	Черняховский Иван Данилович
26	Шубин Пётр Алексеевич



Задание 3.

Назовите имя этой певицы – уроженки Курской области.

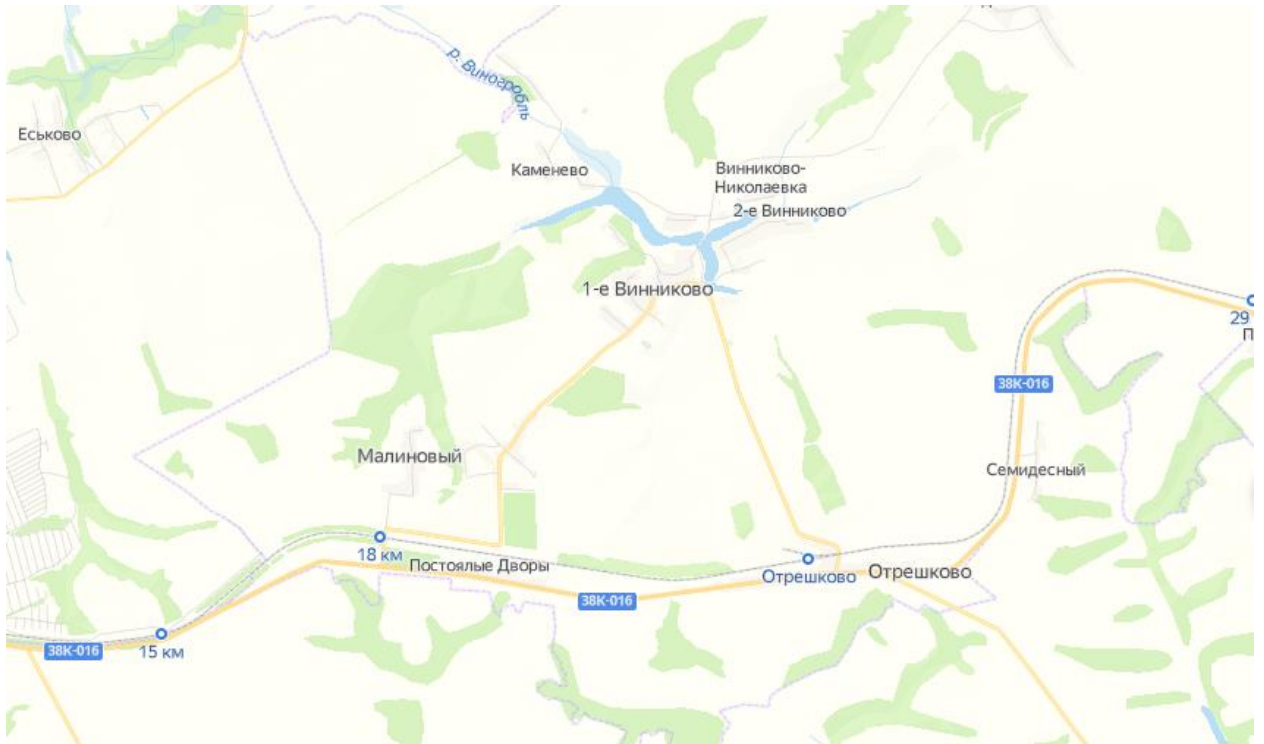


В каком жанре она исполняла свои произведения?

Как называл её император?

Как сложилась судьба этой исторической личности?

Обозначьте на карте место рождения вышеназванной певицы.



Какие из предметов одежды характерны для родного края певицы? Назовите и опишите их.





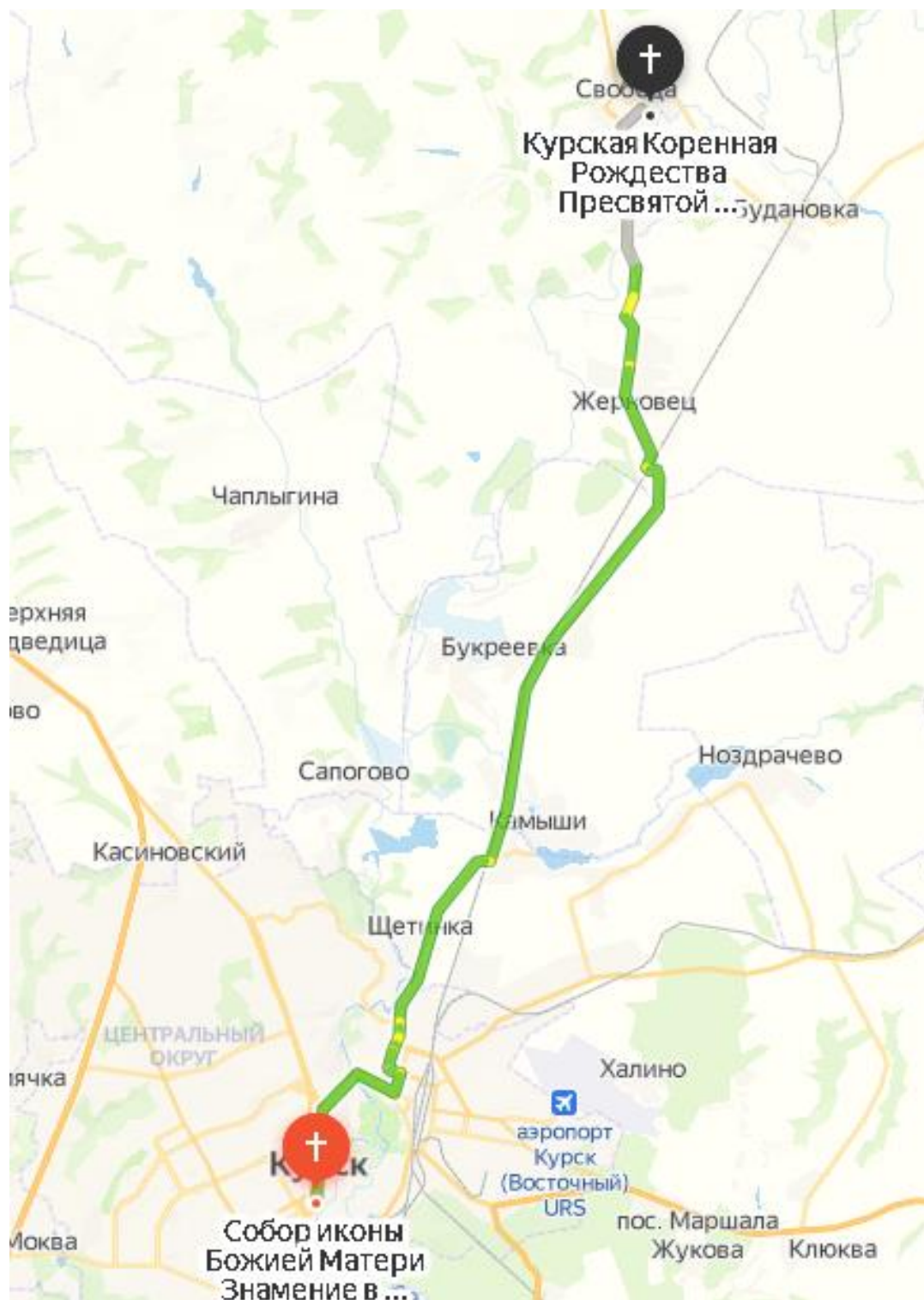
Задание 4.

Рассмотрите картину Репина И.Е. «Крестный ход в Курской губернии»



Путь крестного хода составлял более 30 км. На его пути было несколько храмов. Отметьте на карте цифрами ныне существующие храмы, расположенные по пути следования крестного хода, напишите их названия.


№ на карте	Название храма




Задание 5.

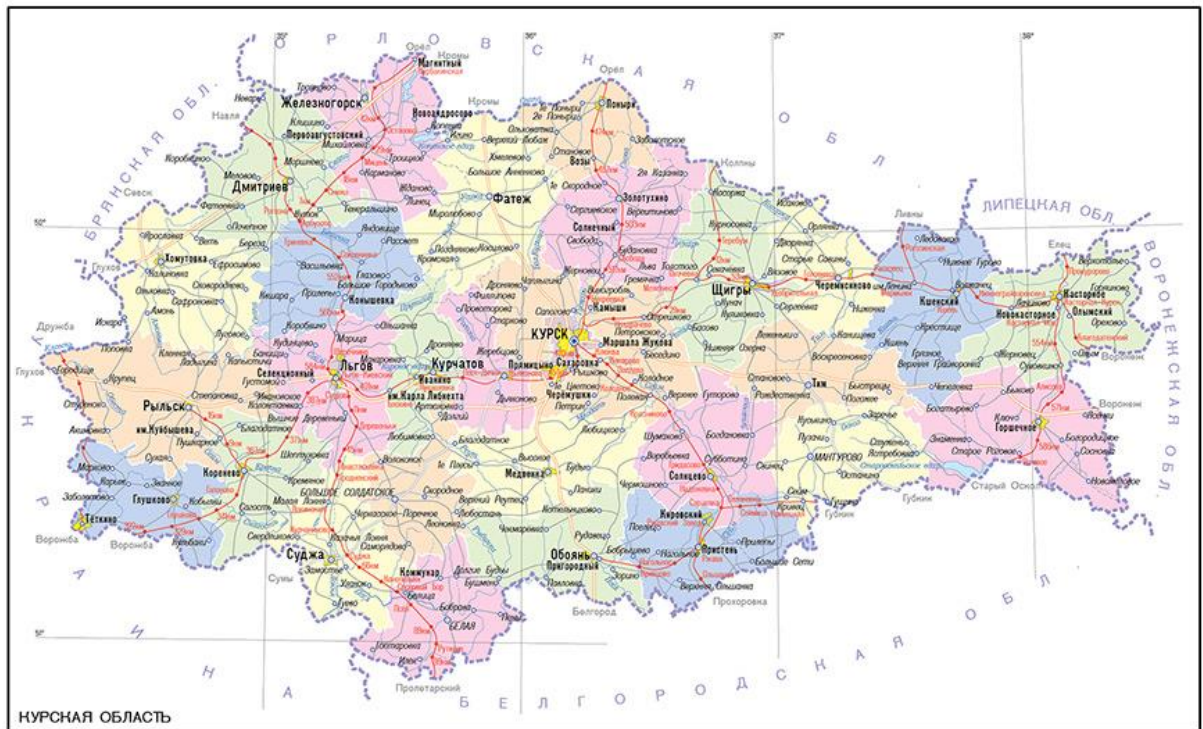
В Курской области существуют свои достопримечательности.

Заполните таблицу, охарактеризовав их.

№	Иллюстрация, название	Описание
1	 Цветные озёра	
2	 Центрально-Чернозёмный государственный природный биосферный заповедник имени профессора В. В. Алёхина	
3	 Башня Шамиля	
4	 Курская магнитная аномалия	

5	 <p data-bbox="437 461 738 495">Водяная мельница</p>	
6	 <p data-bbox="517 799 659 833">Водопад</p>	
7	 <p data-bbox="432 1176 746 1209">Плавающий остров</p>	

Нанесите на карту Курской области порядковые номера вышеназванных достопримечательностей из таблицы.



Задание 6.

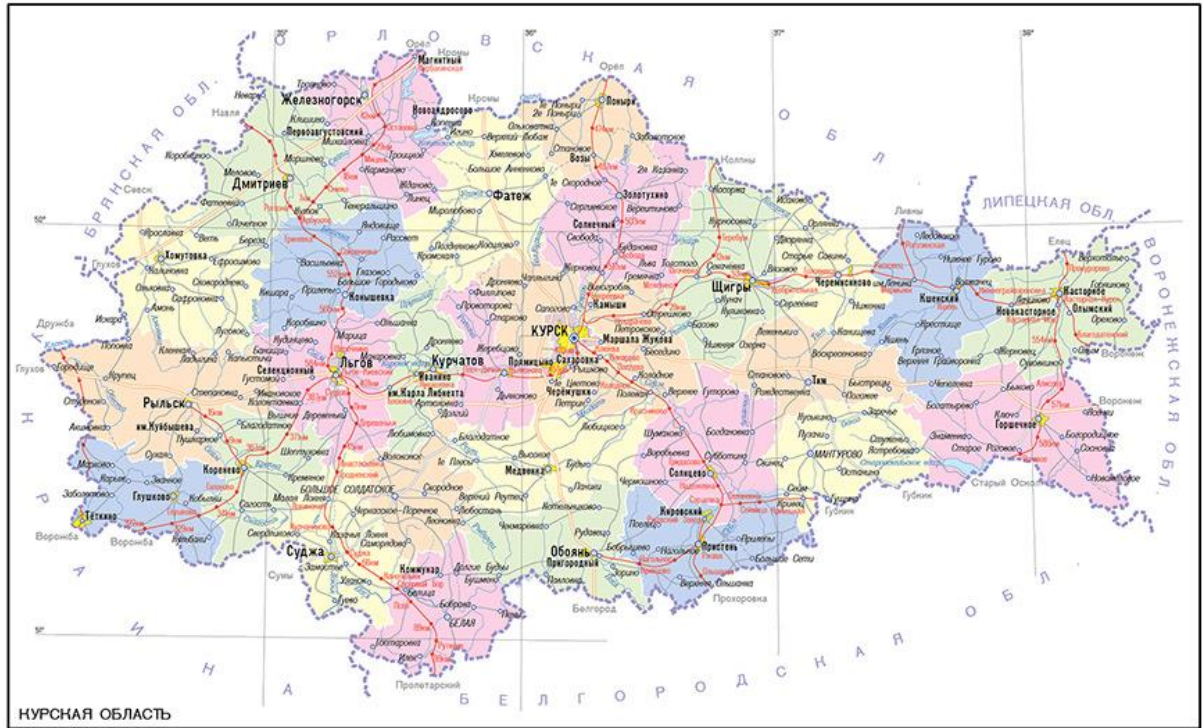
Составьте каталог самых известных усадеб Курской области

Заполните таблицу, охарактеризовав их.

№	Иллюстрация, название	Описание
1	 Усадьба «Марьино»	
2	 Усадьба «Дворец для любимой»	
3	 Усадьба Нелидовых в Мокве	
4	 Усадьба А. Фета	

5	 <p data-bbox="427 479 746 517">Усадьба Левшиных</p>	
6	 <p data-bbox="427 810 746 848">Усадьба «Лебяжье»</p>	
7	 <p data-bbox="395 1187 783 1223">Усадьба Тахтамировых</p>	



Нанесите на карту Курской области порядковые номера вышеназванных усадеб из таблицы.



Задание 7.

Составьте каталог монастырей Курской области.
Заполните таблицу, охарактеризовав их.

№	Иллюстрация, название	Описание
1	 Курская Коренная Рождество-Богородичная пустынь	
2	 Курский Знаменский Богородицкий мужской монастырь	
3	 Рыльский Свято- Николаевский мужской монастырь	
4	 Курский Свято-Троицкий женский монастырь	
5	 Алексеевский	

	Золотухинский женский монастырь	
6	 Горнальский Свято-Николаевский Белогорский мужской монастырь	
7	 Большегнеушевский Казанский женский монастырь	

Нанесите на карту Курской области порядковые номера вышеназванных монастырей из таблицы.

